

กระดาษคำตอบ

วิชาคณิตศาสตร์ ชั้นประถมศึกษาปีที่ 3

ชุดที่ 3 บทที่ 6 เรื่องเวลา

ศูนย์ที่ 1 เรื่องการเขียนและการอ่านเวลาในช่วงกลางวันและกลางคืน
เป็นชั่วโมงตรงโดยใช้จุด

โรงเรียน.....

ชื่อ-สกุล..... เลขที่.....

	ก	ข	ค	ง
1.				
2.				
3.				
4.				
5.				
6.				
7.				
8.				
9.				
10.				

บัตรคำถาม

วิทยาศาสตร์ ชั้นประถมศึกษาปีที่ 3

ชุดที่ 3 บทที่ 6 เรื่องเวลา

ศูนย์ที่ 1 เรื่องการเขียนและการอ่านเวลาในช่วงกลางวันและกลางคืน
เป็นชั่วโมงตรงโดยใช้จุด

.....

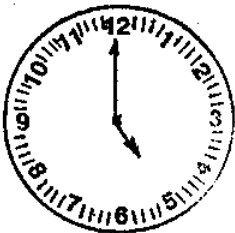
1.



เวลา 13 นาฬิกา เขียนเวลาโดยใช้จุดได้
ตามข้อใด

- ก. 0.13 น. ข. 00.13 น.
ค. 13.0 น. ง. 13.00 น.

2.



เวลา 17 นาฬิกา เขียนเวลาโดยใช้จุดได้
ตามข้อใด

- ก. 17.00 น. ข. 0.17 น.
ค. 0.17 น. ง. 00.17 น.

3.



เวลา 18 นาฬิกา เขียนเวลาโดยใช้จุดได้
ตามข้อใด

- ก. 18.0 น. ข. 18.00 น.
ค. 00.18 น. ง. 0.18 น.

4.



เวลา 16 นาฬิกา เขียนเวลาโดยใช้จุดได้
ตามข้อใด

- ก. 0.16 น. ข. 00.16 น.
ค. 16.00 น. ง. 16.0 น.

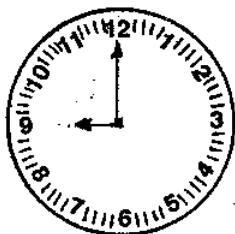
5.



เวลา 15 นาฬิกา เขียนเวลาโดยใช้จุดได้
ตามข้อใด

- ก. 15.00 น. ข. 00.15 น.
ค. 0.15 น. ง. 15.0 น.

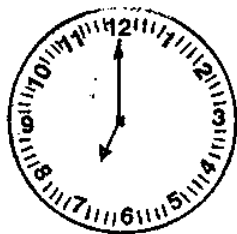
6.



เวลา 21 นาฬิกา เขียนเวลาโดยใช้จุดได้
ตามข้อใด

- ก. 21.0 น. ข. 21.00 น.
ค. 00.21 น. ง. 0.21 น.

8 7.



เวลา 19 นาฬิกา เขียนเวลาโดยใช้จุดได้
ตามข้อใด

- ก. 19.00 น. ข. 19.0 น.
ค. 00.19 น. ง. 0.19 น.

8.



เวลา 23 นาฬิกา เขียนเวลาโดยใช้จุดได้
ตามข้อใด

ก. 0.23 น.

ข. 00.23 น.

ค. 23.0 น.

ง. 23.00 น.

9.



เวลา 24 นาฬิกา เขียนเวลาโดยใช้จุดได้
ตามข้อใด


ก. 0.24 น.

ข. 00.24 น.

ค. 24.00 น.

ง. 24.0 น.

10.



เวลา 22 นาฬิกา เขียนเวลาโดยใช้จุดได้
ตามข้อใด

ก. 22.0 น.

ข. 22.00 น.

ค. 00.22 น.

ง. 0.22 น.

บัตรเฉลย

วิชาคณิตศาสตร์ ชั้นประถมศึกษาปีที่ 3

ชุดที่ 3 บทที่ 6 เรื่องเวลา

ศูนย์ที่ 1 เรื่องการเขียนและการอ่านเวลาในช่วงกลางวันและกลางคืน
เป็นชั่วโมงตรงโดยใช้จุด

.....

1. ง
2. ก
3. ข
4. ค
5. ก
6. ข
7. ก
8. ง
9. ค
10. ข

กระดาษคำตอบแบบทดสอบหลังเรียน
วิชาคณิตศาสตร์ ชั้นประถมศึกษาปีที่ 3

ชุดที่ 3 บทที่ 6 เรื่องเวลา

ศูนย์ที่ 1 เรื่องการเขียนและการอ่านเวลาในช่วงกลางวันเป็น
ชั่วโมงตรงโดยใช้จุด

โรงเรียน.....

ชื่อ-สกุล.....เลขที่.....

	ก	ข	ค	ง
1.				
2.				
3.				
4.				
5.				
6.				
7.				
8.				
9.				
10.				

แบบทดสอบหลังเรียน




วิชาคณิตศาสตร์ ชั้นประถมศึกษาปีที่ 3

ชุดที่ 3 บทที่ 6 เรื่องเวลา

ศูนย์ที่ 1 เรื่องการเขียนและการอ่านเวลาในช่วงกลางวันเป็น
ชั่วโมงตรงโดยใช้จุด

คำสั่ง

เลือกข้อที่ถูกที่สุดตอบในกระดาษคำตอบ

1.  ก. 13.0 น. ข. 13.00 น.
ค. 12.0 น. ง. 12.0 น.
2.  ก. 12.00 น. ข. 12.0 น.
ค. 16.00 น. ง. 16.0 น.
3.  ก. 18.00 น. ข. 18.0 น.
ค. 12.00 น. ง. 12.0 น.

4.



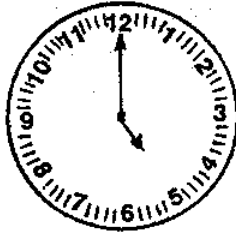
ก. 12.00 น.

ข. 12.0 น.

ค. 14.0 น.

ง. 14.00 น.

5.




ก. 17.00 น.

ข. 17.0 น.

ค. 12.00 น.

ง. 12.0 น.

6.



ก. 15.0 น.

ข. 15.00 น.

ค. 12.0 น.

ง. 12.00 น.

7. เวลา 19 นาฬิกา เขียนเวลาโดยใช้จุดได้อย่างไร

ก. 19.00 น.

ข. 19.0 น.

ค. 00.19 น.

ง. 0.19 น.

8. เวลา 24 นาฬิกา เขียนเวลาโดยใช้จุดได้อย่างไร

ก. 24.0 น.

ข. 24.00 น.

ค. 0.24 น.

ง. 00.24 น.

9. เวลา 21 นาฬิกา เขียนเวลาโดยใช้จุดได้อย่างไร

ก. 0.21 น.

ข. 00.21 น.

ค. 21.00 น.

ง. 21.0 น.

10. เวลา 22 นาฬิกา เขียนเวลาโดยใช้จุดได้อย่างไร

ก. 0.22 น.

ข. 00.22 น.

ค. 22.0 น.

ง. 22.00 น.

เฉลยแบบทดสอบหลังเรียน

วิชาคณิตศาสตร์ ชั้นประถมศึกษาปีที่ 3

ชุดที่ 3 บทที่ 6 เรื่องเวลา

ศูนย์ที่ 1 เรื่องการเขียนและการอ่านเวลาในช่วงกลางวันเป็น

ชั่วโมงตรงโดยใช้จุด

-
1. ข
 2. ค
 3. ก
 4. ง
 5. ก
 6. ข
 7. ก
 8. ข
 9. ค
 10. ง

บัตรคำสั่ง

วิชาคณิตศาสตร์ ชั้นประถมศึกษาปีที่ 3

ชุดที่ 3 บทที่ 6 เรื่องเวลา

ศูนย์ที่ 2 เรื่องการเขียนและการอ่านเวลาในช่วงกลางวันและกลางคืน
เป็นชั่วโมงและนาทีโดยใช้จุด

โปรดอ่านบัตรคำสั่งแล้วปฏิบัติตามลำดับขั้นด้วยความตั้งใจ

1. หัวหน้าประจำศูนย์การเขียนแจกกระดาษคำตอบแบบทดสอบก่อนเรียน
2. หัวหน้าประจำศูนย์การเขียนแจกแบบทดสอบก่อนเรียน
3. ทำแบบทดสอบก่อนเรียนในกระดาษคำตอบแบบทดสอบก่อนเรียน
4. หัวหน้าประจำศูนย์การเขียนเก็บกระดาษคำตอบแบบทดสอบก่อนเรียนส่งครู
5. หัวหน้าประจำศูนย์การเขียนแจกบัตรเนื้อหา
6. อ่านบัตรเนื้อหา
7. หัวหน้าประจำศูนย์การเขียนแจกบัตรกิจกรรม
8. อ่านบัตรกิจกรรมและปฏิบัติกิจกรรม
9. หัวหน้าประจำศูนย์การเขียนแจกกระดาษคำตอบ
10. หัวหน้าประจำศูนย์การเขียนแจกบัตรคำถาม
11. อ่านบัตรคำถาม ตอบคำถามในกระดาษคำตอบ
12. หัวหน้าประจำศูนย์การเขียนเก็บกระดาษคำตอบส่งครู
13. หัวหน้าประจำศูนย์การเขียนแจกกระดาษคำตอบแบบทดสอบหลังเรียน

14. หัวหน้าประจำศูนย์การ เรียนแจกแบบทดสอบหลัง เรียน
15. ทำแบบทดสอบหลัง เรียนในกระดาษคำตอบแบบทดสอบหลัง เรียน
16. หัวหน้าประจำศูนย์การ เรียนเก็บกระดาษคำตอบแบบทดสอบ หลัง เรียนส่งครู

กระดาษคำตอบแบบทดสอบก่อนเรียน
 วิชาคณิตศาสตร์ ชั้นประถมศึกษาปีที่ 3
 ชุดที่ 3 บทที่ 6 เรื่องเวลา

ศูนย์ที่ 2 เรื่องการเขียนและการอ่านเวลาในช่วงกลางวันและกลางคืน
 เป็นชั่วโมงและนาทีโดยใช้จุด

.....

โรงเรียน.....

ชื่อ - สกุล..... เลขที่.....

ตอนที่ 1

	ก	ข	ค	ง
1.				
2.				
3.				
4.				
5.				

ตอนที่ 2

6.
7.
8.
9.
10.

แบบทดสอบก่อนเรียน

วิชาคณิตศาสตร์ ชั้นประถมศึกษาปีที่ 3

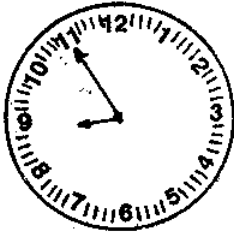
ชุดที่ 3 บทที่ 6 เรื่องเวลา

ศูนย์ที่ 2 เรื่องการเขียนและการอ่านเวลาในช่วงกลางวันและกลางคืน
เป็นชั่วโมงและนาทีโดยใช้จุด

คำสั่ง

ตอนที่ 1 เลือกข้อที่ถูกต้องที่สุด ตอบในกระดาษคำตอบ

1.



- ก. 20.00 น. ข. 23.00 น.
ค. 20.55 น. ง. 23.40 น.

2.



- ก. 13.35 น. ข. 19.05 น.
ค. 13.07 น. ง. 19.01 น.

3.



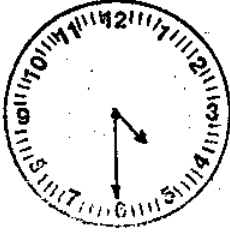
- ก. 21.11 น. ข. 21.55 น.
ค. 23.10 น. ง. 23.11 น.

4.



- ก. 15.55 น. ข. 15.11 น.
 ค. 23.15 น. ง. 23.05 น.

5.



- ก. 18.04 น. ข. 18.20 น.
 ค. 16.06 น. ง. 16.30 น.

ตอนที่ 2 จงเขียนค่าอ่านเวลาตามหน้าปัดนาฬิกาให้ถูกต้อง

6.



14.25 น. อ่านว่า.....

7.



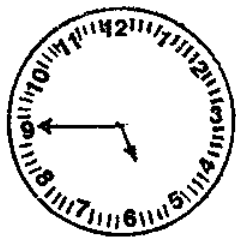
23.30 น. อ่านว่า.....

8.



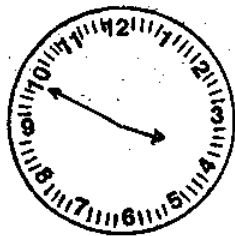
21.20 น. อ่านว่า.....

9.



17.45 น. อ่านว่า.....

10.



15.50 น. อ่านว่า.....

เฉลยแบบทดสอบก่อนเรียน

วิชาคณิตศาสตร์ ชั้นประถมศึกษาปีที่ 3

ชุดที่ 3 บทที่ 6 เรื่องเวลา

ศูนย์ที่ 2 เรื่องการเขียนและการอ่านเวลาในช่วงกลางวันและกลางคืน
เป็นชั่วโมงและนาทีโดยใช้จุด

ตอนที่ 1

1. ค
2. ข
3. ข
4. ค
5. ง

ตอนที่ 2

6. สิบสี่นาฬิกาสี่สิบห้านาที
7. ยี่สิบสามนาฬิกาสามสิบนาที
8. ยี่สิบเอ็ดนาฬิกาสี่สิบนาที
9. สิบเจ็ดนาฬิกาสี่สิบห้านาที
10. สิบห้านาฬิกาห้าสิบนาที

บัตรเนื้อหา

วิชาคณิตศาสตร์ ชั้นประถมศึกษาปีที่ 3

ชุดที่ 3 บทที่ 6 เรื่องเวลา

ศูนย์ที่ 2 เรื่องการเขียนและการอ่านเวลาในช่วงกลางวันและกลางคืน
เป็นชั่วโมงและนาทีโดยใช้จุด

เวลาหลังเที่ยงเริ่มตั้งแต่ 13 นาฬิกา ถึง 24 นาฬิกา ในกรณีที่มีเวลาเข้ามาเกี่ยวข้อง 2 หน่วย คือ หน่วยนาฬิกาและหน่วยนาที การเขียนเวลาโดยใช้จุดเลขหน้าจุดบอกเวลาเป็นนาฬิกา ส่วนเลขหลังจุดบอกเวลาเป็นนาที



เวลา 13 นาฬิกา 25 นาที เขียนเวลาโดยใช้จุดได้ 13.25 น.

อ่านว่า สิบสามนาฬิกา ยี่สิบห้านาที



เวลา 16 นาฬิกา 30 นาที เขียนเวลาโดยใช้จุดได้ 16.30 น.

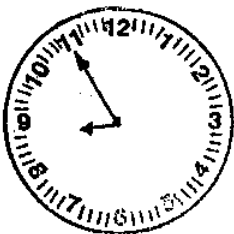
อ่านว่า สิบหกนาฬิกา สามสิบนาที



เวลา 18 นาฬิกา 40 นาที เขียนเวลา
โดยใช้จุดได้ 18.40 น.
อ่านว่า สิบแปดนาฬิกาสี่สิบนาที



เวลา 22 นาฬิกา 5 นาที เขียนเวลา
โดยใช้จุดได้ 22.05 น.
อ่านว่า ยี่สิบสองนาฬิกาห้านาที



เวลา 20 นาฬิกา 55 นาที เขียนเวลา
โดยใช้จุดได้ 20.55 น.
อ่านว่า ยี่สิบนาฬิกาห้าสิบห้านาที

บัตรกิจกรรม

วิชาคณิตศาสตร์ ชั้นประถมศึกษาปีที่ 3

ชุดที่ 3 บทที่ 6 เรื่อง เวลา

ศูนย์ที่ 2 เรื่อง การเขียนและการอ่านเวลาในช่วงกลางวันและกลางคืน
เป็นชั่วโมงและนาทีโดยใช้จุด

ให้นักเรียนเล่นเกมจับคู่เวลาโดยใช้จุด

วิธีเล่น

1. แต่ละคนหยิบบัตรภาพนาฬิกาคนละ 1 บัตร
2. เมื่อได้บัตรภาพนาฬิกาแล้วอ่านให้เพื่อนฟังว่าเป็นเวลาเท่าไร



เช่น หยิบได้บัตรภาพนาฬิกา ซึ่งบอกเวลา 19 นาฬิกา 30 นาที


อ่านให้เพื่อนฟังว่า "19 นาฬิกา 30 นาที"

3. เพื่อน ๆ ค้นหาบัตรซึ่งบอกเวลา 19.30 น.
4. เก็บบัตรที่ค้นหาเวลาได้ไว้


5. คนอื่นก็บอกเวลาของตนเองให้เพื่อนค้นหาบัตรบอก
เวลาเป็นตัวเลข

กติกา


ผู้ชนะ คือ ผู้ที่ค้นหาบัตรบอกเวลาได้มากที่สุด



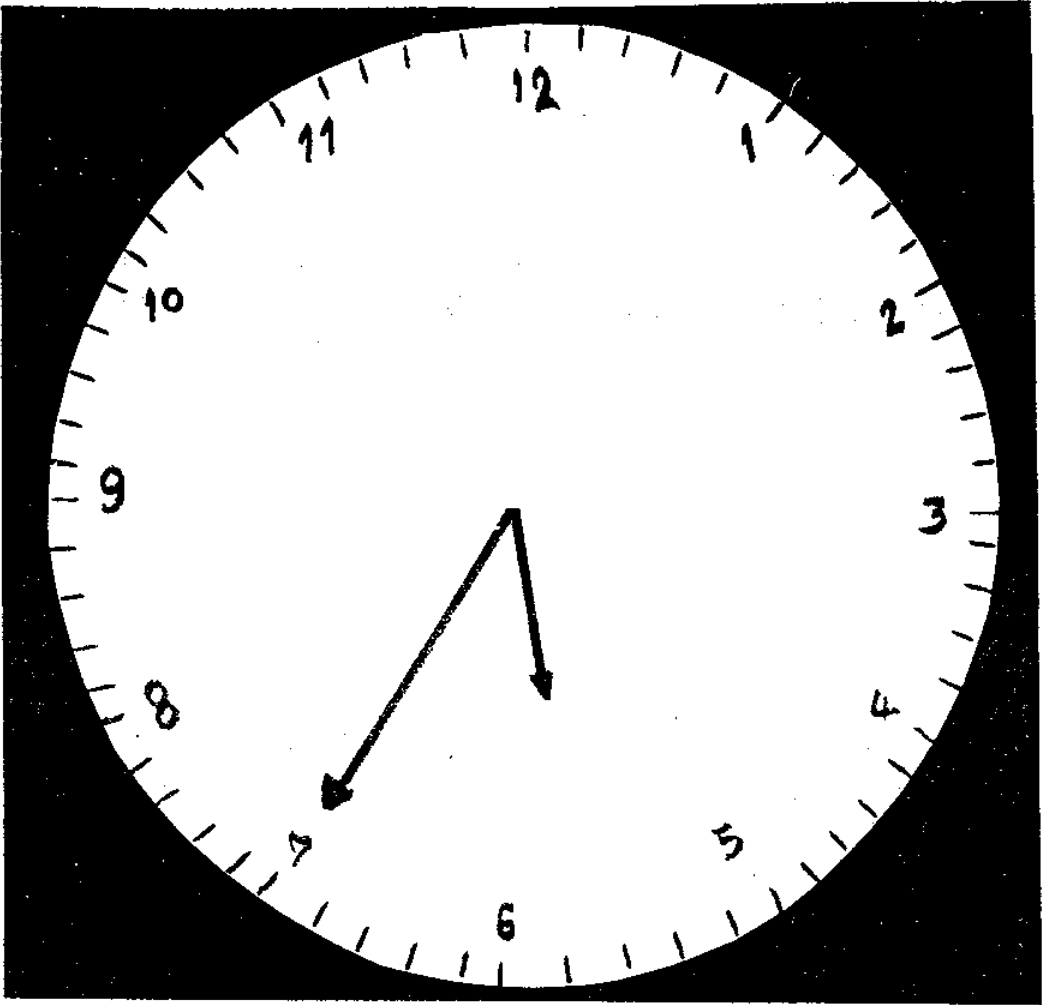
14.45 96.



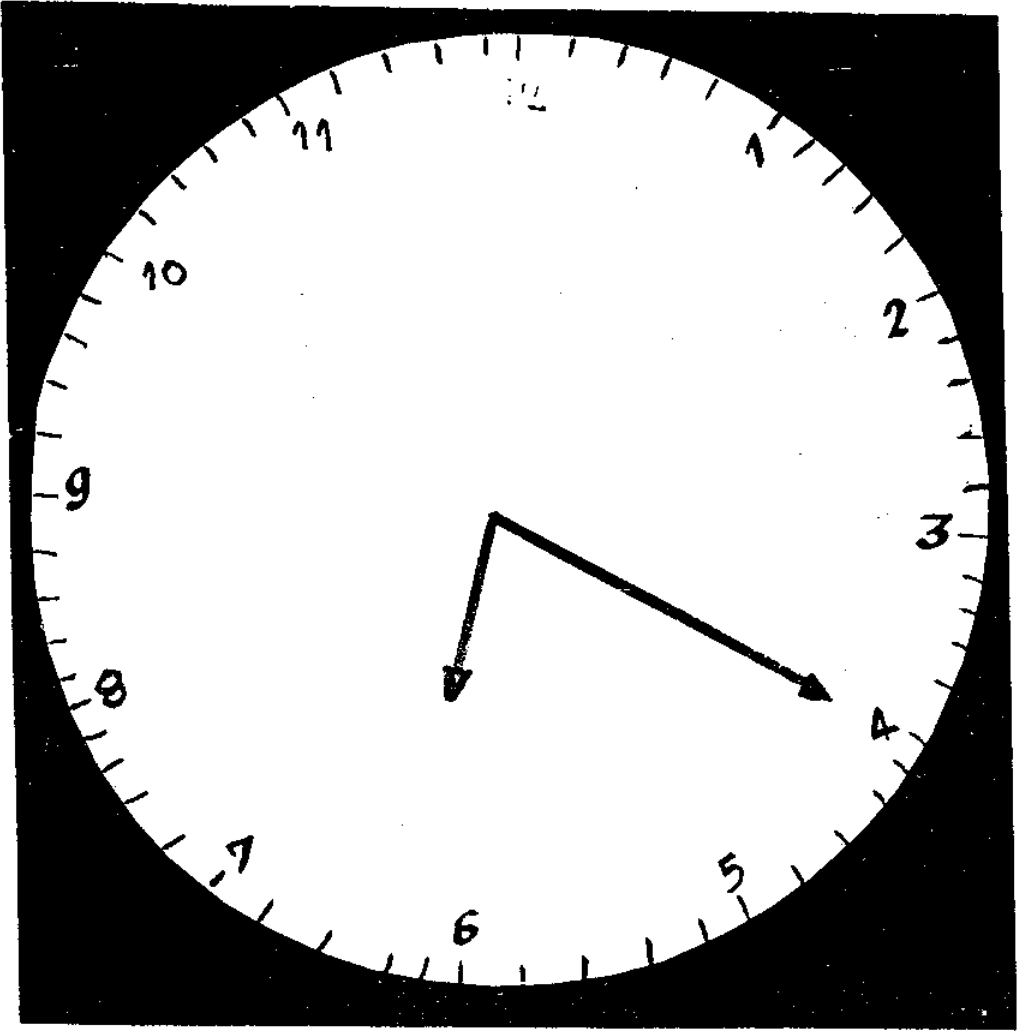
13.30 ы.




16.15 26.




17. 35 96.



18.20 26.



21.50 96.



23. 05 26.

กระดาษคำตอบ

วิชาคณิตศาสตร์ ชั้นประถมศึกษาปีที่ 3

ชุดที่ 3 บทที่ 6 เรื่องเวลา

ศูนย์ที่ 2 เรื่องการเขียนและการอ่านเวลาในช่วงกลางวันและ
กลางคืนเป็นชั่วโมงและนาทีโดยใช้จุด

โรงเรียน.....

ชื่อ - สกุล.....เลขที่.....

	ก	ข	ค	ง
1.				
2.				
3.				
4.				
5.				
6.				
7.				
8.				
9.				
10				

บัตรคำถาม

วิชาคณิตศาสตร์ ชั้นประถมศึกษาปีที่ 3

ชุดที่ 3 บทที่ 6 เรื่องเวลา

ศูนย์ที่ 2 เรื่องการเขียนและการอ่านเวลาในช่วงกลางวันและกลางคืน
เป็นชั่วโมงและนาทีโดยใช้จุด

คำสั่ง ให้นักเรียนกาเครื่องหมาย x หน้าข้อที่ถูกที่สุดในกระดาษคำตอบ

1. เวลา 13 นาฬิกา 25 นาที เขียนเวลาโดยใช้จุดได้อย่างไร

ก. 13.25 น.	ข. 13.2 น.
ค. 13.05 น.	ง. 13.52 น.
2. เวลา 18 นาฬิกา 20 นาที เขียนเวลาโดยใช้จุดได้อย่างไร

ก. 18.2 น.	ข. 18.02 น.
ค. 18.20 น.	ง. 18.02 น.
3. เวลา 20 นาฬิกา เขียนเวลาโดยใช้จุดได้อย่างไร

ก. 20. น.	ข. 20.000 น.
ค. 20.0 น.	ง. 20.00 น.
4. เวลา 15 นาฬิกา 5 นาที เขียนเวลาโดยใช้จุดได้อย่างไร

ก. 15.50 น.	ข. 15.05 น.
ค. 15.0 น.	ง. 15.5 น.
5. เวลา 24 นาฬิกา 10 นาที เขียนเวลาโดยใช้จุดได้อย่างไร

ก. 24.10 น.	ข. 24.1 น.
ค. 24.00 น.	ง. 24.01 น.

6. 13.00 น. อ่านว่าอย่างไร
- สิบสามจุดศูนย์นอ
 - สิบสามนาฬิกา
 - สิบสามจุดศูนย์ศูนย์นาฬิกา
 - หนึ่งสามนาฬิกา
7. 17.30 น. อ่านว่าอย่างไร
- หนึ่งเจ็ดจุดสามศูนย์นอ
 - สิบเจ็ดจุดสามศูนย์นาฬิกา
 - สิบเจ็ดนาฬิกาสามสิบนาที
 - สิบเจ็ดนาฬิกาสามศูนย์นาที
8. 23.05 น. อ่านว่าอย่างไร
- สองสามจุดศูนย์ห้านาฬิกา
 - สองสามจุดห้านาฬิกา
 - ยี่สิบสามนาฬิกาห้านาที
 - ยี่สิบสามนาฬิกาศูนย์ห้านาที
9. 19.40 น. อ่านว่าอย่างไร
- สิบเก้านาฬิกาสี่สิบนาที
 - สิบเก้านาฬิกาสี่ศูนย์นาที
 - สิบเก้านาฬิกาสี่นาที
 - หนึ่งเก้านาฬิกาสี่สิบนาที
10. 16.25 น. อ่านว่าอย่างไร
- หนึ่งหกจุดศูนย์สองห้านาฬิกา
 - สิบหกนาฬิกาสองห้านาที
 - หนึ่งหกนาฬิกายี่สิบห้านาที
 - สิบหกนาฬิกายี่สิบห้านาที

บัตรเฉลย

วิชาคณิตศาสตร์ ชั้นประถมศึกษาปีที่ 3

ชุดที่ 3 บทที่ 6 เรื่องเวลา

ศูนย์ที่ 2 เรื่องการเขียนและการอ่านเวลาในช่วงกลางวันและกลางคืน
เป็นชั่วโมงและนาทีโดยใช้จุด

.....

1. ก
2. ค
3. ง
4. ข
5. ก
6. ข
7. ค
8. ค
9. ก
10. ง

กระดาษคำตอบแบบทดสอบหลังเรียน
 วิชาคณิตศาสตร์ ชั้นประถมศึกษาปีที่ 3
 ชุดที่ 3 บทที่ 6 เรื่องเวลา

ศูนย์ที่ 2 เรื่องการเขียนและการอ่านเวลาในช่วงกลางวันและกลางคืน
 เป็นชั่วโมงและนาทีโดยใช้จุด

.....

โรงเรียน.....

ชื่อ - สกุล..... เลขที่.....

ตอนที่ 1

1.

2.

3.

4.

5.

	ก	ข	ค	ง

ตอนที่ 2

6.
7.
8.
9.
10.

แบบทดสอบหลังเรียน

วิชาคณิตศาสตร์ ชั้นประถมศึกษาปีที่ 3

ชุดที่ 3 บทที่ 6 เรื่องเวลา

ศูนย์ที่ 2 เรื่องการเขียนและการอ่านเวลาในช่วงกลางวันและกลางคืน
เป็นชั่วโมงและนาทีโดยใช้จุด

.....

คำสั่ง

ตอนที่ 1 เลือกข้อที่ถูกต้องที่สุด ตอบในกระดาษคำตอบ

1.



- ก. 20.00 น. ข. 23.00 น.
ค. 20.55 น. ง. 23.40 น.

2.



- ก. 13.35 น. ข. 19.05 น.
ค. 13.07 น. ง. 19.01 น.

3.



- ก. 21.11 น. ข. 21.55 น.
ค. 23.10 น. ง. 23.11 น.

4.



ก. 15.55 น. ข. 15.11 น.

ค. 23.15 น. ง. 23.03 น.

5.



ก. 18.04 น. ข. 18.20 น.

ค. 16.06 น. ง. 16.30 น.

ตอนที่ 2 จงเขียนคำอ่านเวลาตามหน้าปัดนาฬิกาให้ถูกต้อง

6.



14.25 น. อ่านว่า.....

7.



23.30 น. อ่านว่า.....

8.



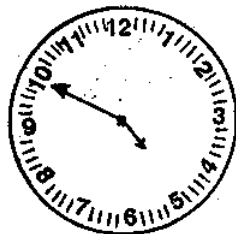
21.20 น. อ่านว่า.....

9.



17.45 น. อ่านว่า.....

10.



15.50 น. อ่านว่า.....

เฉลยแบบทดสอบหลังเรียน

วิชาคณิตศาสตร์ ชั้นประถมศึกษาปีที่ 3

ชุดที่ 3 บทที่ 6 เรื่องเวลา

ศูนย์ที่ 2 เรื่องการเขียนและการอ่านเวลาในช่วงกลางวันและกลางคืน
เป็นชั่วโมงและนาทีโดยใช้จุด

.....

ตอนที่ 1

1. ค
2. ข
3. ข
4. ค
5. ง

ตอนที่ 2

6. สิบสี่นาฬิกาสี่สิบห้านาที
7. สิบสามนาฬิกาสามสิบนาที
8. สิบเจ็ดนาฬิกาสี่สิบนาที
9. สิบเจ็ดนาฬิกาสี่สิบห้านาที
10. สิบห้านาฬิกาห้าสิบนาที

บัตรคำสั่ง

วิชาคณิตศาสตร์ ชั้นประถมศึกษาปีที่ 3

ชุดที่ 3 บทที่ 6 เรื่องเวลา

ศูนย์ที่ 3 เรื่องการเขียนและการอ่านเวลาในช่วงกลางคืนและกลางวัน
เป็นชั่วโมงตรงโดยใช้จุด

.....

โปรดอ่านบัตรคำสั่งแล้วปฏิบัติตามลำดับขั้นด้วยความตั้งใจ

1. หัวหน้าประจำศูนย์การเขียนแจกกระดาษคำตอบแบบทดสอบก่อนเขียน
2. หัวหน้าประจำศูนย์การเขียนแจกแบบทดสอบก่อนเขียน
3. ทำแบบทดสอบก่อนเขียนในกระดาษคำตอบแบบทดสอบก่อนเขียน
4. หัวหน้าประจำศูนย์การเขียนเก็บกระดาษคำตอบแบบทดสอบก่อนเขียนส่งครู
5. หัวหน้าประจำศูนย์การเขียนแจกบัตรเนื้อหา
6. อ่านบัตรเนื้อหา
7. หัวหน้าประจำศูนย์การเขียนแจกบัตรกิจกรรม
8. อ่านบัตรกิจกรรมและปฏิบัติกิจกรรม
9. หัวหน้าประจำศูนย์การเขียนแจกกระดาษคำตอบ
10. หัวหน้าประจำศูนย์การเขียนแจกบัตรคำถาม
11. อ่านบัตรคำถาม ตอบคำถามในกระดาษคำตอบ
12. หัวหน้าประจำศูนย์การเขียนเก็บกระดาษคำตอบส่งครู
13. หัวหน้าประจำศูนย์การเขียนแจกกระดาษคำตอบแบบทดสอบหลังเรียน

14. หัวหน้าประจำศูนย์การ เรียน แจกแบบทดสอบหลัง เรียน
15. ทำแบบทดสอบหลัง เรียนในกระดาษคำตอบแบบทดสอบหลัง เรียน
16. หัวหน้าประจำศูนย์การ เรียน เก็บกระดาษคำตอบแบบทดสอบ หลัง เรียนส่งครู

แบบทดสอบก่อนเรียน

วิชาคณิตศาสตร์ ชั้นประถมศึกษาปีที่ 3

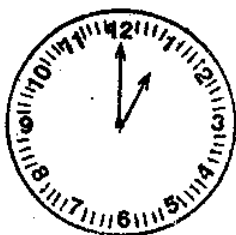
ชุดที่ 3 บทที่ 6 เรื่องเวลา

ศูนย์ที่ 3 เรื่องการเขียนและการอ่านเวลากลางคืนและกลางวันเป็น
ชั่วโมงตรงใช้จุด

คำสั่ง

ตอนที่ 1 ให้นักเรียนกาเครื่องหมาย X ทับข้อที่ถูกที่สุด ใน
กระดาษคำตอบ

1. จากรูปเป็นเวลาเท่าไร



- | | | | |
|----|----------|----|---------|
| ก. | 12.00 น. | ข. | 1.00 น. |
| ค. | 12.01 น. | ง. | 1.12 น. |

2. จากรูปเป็นเวลาเท่าไร



- | | | | |
|----|----------|----|----------|
| ก. | 12.00 น. | ข. | 12.03 น. |
| ค. | 3.00 น. | ง. | 3.12 น. |

3. จากรูปเป็นเวลาเท่าไร



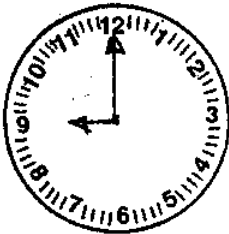
ก. 12.00 น.

ข. 12.06 น.

ค. 6.12 น.

ง. 6.00 น.

4. จากรูปเป็นเวลาเท่าไร



ก. 9.00 น.

ข. 9.12 น.

ค. 12.45 น.

ง. 12.09 น.

5. จากรูปเป็นเวลาเท่าไร



ก. 12.11 น.

ข. 12.50 น.

ค. 11.00 น.

ง. 11.11 น.

ตอนที่ 2 ให้นักเรียนกาเครื่องหมาย x ทับข้อที่ถูกที่สุดในกระดาน
คำตอบ

6. ข้อใดหน้าปัดนาฬิกาแสดงเวลา สี่นาฬิกา ได้ถูกต้อง



ก



ข



ค

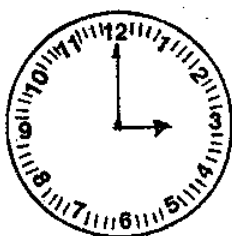


ง

7. ข้อใดหน้าปัดนาฬิกาแสดงเวลา ห้านาฬิกา ได้ถูกต้อง




ก



ข



ค

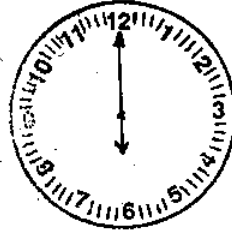


ง


8. ข้อใดหน้าปัดนาฬิกาแสดงเวลา สิบนาฬิกา ได้ถูกต้อง



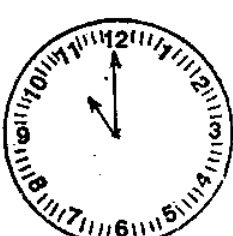
ก



ข

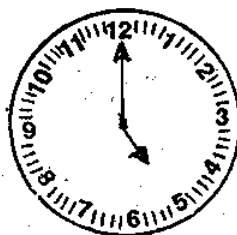


ค



ง

9. ข้อใดหน้าปัดนาฬิกาแสดงเวลา สองนาฬิกา ได้ถูกต้อง



ก



ข



ค

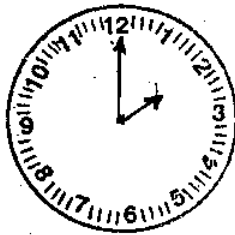


ง

10. ข้อใดหน้าปัดนาฬิกาแสดงเวลา สิบเอ็ดนาฬิกา ได้ถูกต้อง



ก



ข



ค



ง

เฉลยแบบทดสอบก่อนเรียน

วิชาคณิตศาสตร์ ชั้นประถมศึกษาปีที่ 3

ชุดที่ 3 บทที่ 6 เรื่องเวลา

ศูนย์ที่ 3 เรื่องการเขียนและการอ่านเวลาในช่วงกลางคืนและกลางวัน

เป็นชั่วโมงตรงโดยใช้จุด

ตอนที่ 1

1. ข
2. ค
3. ง
4. ก
5. ค

ตอนที่ 2

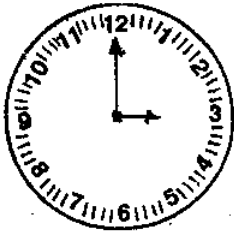
6. ข
7. ง
8. ก
9. ค
10. ง

บัตรเนื้อหา

วิชาคณิตศาสตร์ ชั้นประถมศึกษาปีที่ 3

ชุดที่ 3 บทที่ 6 เรื่องเวลา

ศูนย์ที่ 3 เรื่องการเขียนและการอ่านเวลาในช่วงกลางคืนและกลางวัน
เป็นชั่วโมงตรงโดยใช้จุด



ตัวเลขหน้าจุดบอกเวลาเป็นนาฬิกา

ตัวเลขหลังจุดบอกเวลาเป็นนาที

น. เป็นอักษรย่อใช้แทนคำเต็มว่านาฬิกา

เวลา 3 นาฬิกา

เขียนเวลาโดยใช้จุดได้ 3.00 น.

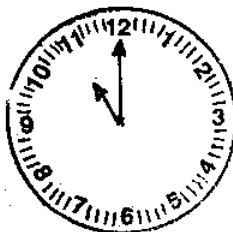
อ่านว่า สามนาฬิกา



เวลา 6 นาฬิกา

เขียนโดยใช้จุดได้ 6.00 น.

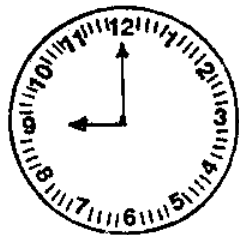
อ่านว่า หกนาฬิกา



เวลา 11 นาฬิกา

เขียนโดยใช้จุดได้ 11.00 น.

อ่านว่า สิบเอ็ดนาฬิกา



เวลา 9 นาฬิกา

เขียนโดยใช้จุดได้ 9.00 นาฬิกา

อ่านว่า เก้านาฬิกา

บัตรกิจกรรม

วิชาคณิตศาสตร์ ชั้นประถมศึกษาปีที่ 3

ชุดที่ 3 บทที่ 6 เรื่องเวลา

ศูนย์ที่ 3 เรื่องการเขียนและการอ่านเวลาในช่วงกลางคืนและกลางวัน
เป็นชั่วโมงตรงโดยใช้จุด

เกมบอกเวลาค้นหาจุด

วิธีเล่น

1. คนที่ 1 อ่านบัตรบอกเวลาโดยใช้จุดให้เพื่อน ๆ ฟัง เช่น ห้านาฬิกา
2. เพื่อน ๆ ที่ได้ยินเขียนเวลาโดยใช้จุด 5.00 น.
3. คนที่ 2 - 7 อ่านบัตรบอกเวลาโดยใช้จุดให้เพื่อน ๆ ฟัง และเพื่อน ๆ ก็เขียนเวลาโดยใช้จุด

กติกา

ผู้ที่เขียนเวลาโดยใช้จุดได้ถูกต้องมากที่สุดเป็นผู้ชนะ

หนังสือพิมพ์

1.00 น.

สามนาฬิกา

3.00 น.

๒
ห่านาฬิกา

5.00 น.

๘
เจ็ดนาฬิกา

7.00 น.

สืบณาพิภา

10.00 น.

สืบเสาะค้นหาพิภพ

11.00 น.

12

สิบสองนาฬิกา

12.00 น.

กระดาษคำตอบ

วิชาคณิตศาสตร์ ชั้นประถมศึกษาปีที่ 3

ชุดที่ 3 บทที่ 6 เรื่องเวลา

ศูนย์ที่ 3 เรื่องการเขียนและการอ่านเวลาในช่วงกลางวันและกลางคืน
เป็นชั่วโมงตรงโดยให้จุด

.....

โรงเรียน.....

ชื่อ - สกุล..... เลขที่.....

ตอนที่ 1

1.

2.

3.

4.

5.

	ก	ข	ค	ง

ตอนที่ 2

6.

7.

8.

9.

10.

บัตรคำถาม

วิชาคณิตศาสตร์ ชั้นประถมศึกษาปีที่ 3

ชุดที่ 3 บทที่ 6 เรื่องเวลา

ศูนย์ที่ 3 เรื่องการเขียนและการอ่านเวลาในช่วงกลางคืนและกลางวัน
เป็นชั่วโมงตรงโดยใช้จุด

คำสั่ง ให้นักเรียนกาเครื่องหมาย x หน้าข้อที่ถูกที่สุดในกระดาษคำตอบ

1. เวลา 2 นาฬิกา เขียนเวลาโดยใช้จุดได้ตามข้อใด

ก. 0.20 น.	ข. 0.02 น.
ค. 2.00 น.	ง. 2.0 น.
2. เวลา 4 นาฬิกา เขียนเวลาโดยใช้จุดได้ตามข้อใด

ก. 4.00 น.	ข. 4.0 น.
ค. 00.4 น.	ง. 0.40 น.
3. เวลา 11 นาฬิกา เขียนเวลาโดยใช้จุดได้ตามข้อใด

ก. 11.0 น.	ข. 11.00 น.
ค. 00.11 น.	ง. 0.11 น.
4. เวลา 12 นาฬิกา เขียนเวลาโดยใช้จุดได้ตามข้อใด

ก. 0.12 น.	ข. 00.12 น.
ค. 12.0 น.	ง. 12.00 น.
5. เวลา 10 นาฬิกา เขียนเวลาโดยใช้จุดได้ตามข้อใด

ก. 10.00 น.	ข. 10.0 น.
ค. 0.10 น.	ง. 00.10 น.

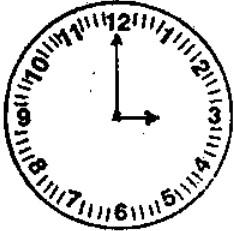
ตอนที่ 2 เขียนคำอ่านเวลาเป็นตัวเลขให้ถูกต้อง

6.



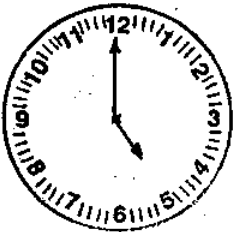
1.00 อ่านว่า.....

7.



3.00 อ่านว่า.....

8.



5.00 น. อ่านว่า.....

9.



9.00 น. อ่านว่า.....

10.



7.00 น. อ่านว่า.....

บัตรเฉลย

วิชาคณิตศาสตร์ ชั้นประถมศึกษาปีที่ 3

ชุดที่ 3 บทที่ 6 เรื่องเวลา

ศูนย์ที่ 3 เรื่องการเขียนและการอ่านเวลาในช่วงกลางคืนและกลางวัน

เป็นชั่วโมงตรงโดยใช้จุด

ตอนที่ 1

1. ค
2. ก
3. ข
4. ง
5. ก

ตอนที่ 2

6. หนึ่งนาฬิกา
7. สามนาฬิกา
8. ห้านาฬิกา
9. เก้านาฬิกา
10. เจ็ดนาฬิกา

แบบทดสอบหลังเรียน

วิชาคณิตศาสตร์ ชั้นประถมศึกษาปีที่ 3

ชุดที่ 3 บทที่ 6 เรื่องเวลา

ศูนย์ที่ 3 เรื่องการเขียนและการอ่านเวลาในช่วงกลางคืนและกลางวัน
เป็นชั่วโมงตรงโดยใช้จุด

คำสั่ง

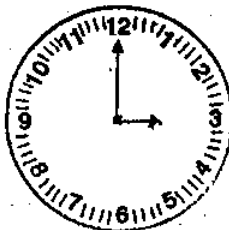
ตอนที่ 1 ให้นักเรียนการเครื่องหมาย X กับข้อที่ถูกต้องที่สุด
ในกระดาษคำตอบ

1. จากรูปเป็นเวลาเท่าไร



- ก. 12.00 น. ข. 1.00 น.
ค. 12.01 น. ง. 1.12 น.

2. จากรูปเป็นเวลาเท่าไร



- ก. 12.00 น. ข. 12.03 น.
ค. 3.00 น. ง. 3.12 น.

3. จากรูปเป็นเวลาเท่าไร



- ก. 12.00 น. ข. 12.06 น.
 ค. 6.12 น. ง. 6.00 น.

4. จากรูปเป็นเวลาเท่าไร



- ก. 9.00 น. ข. 9.12 น.
 ค. 12.45 น. ง. 12.09 น.

5. จากรูปเป็นเวลาเท่าไร



- ก. 12.11 น. ข. 12.50 น.
 ค. 11.00 น. ง. 11.11 น.

ตอนที่ 2 ให้นักเรียนกาเครื่องหมาย X กับข้อที่ถูกที่สุด ในกระดาษ
คำตอบ

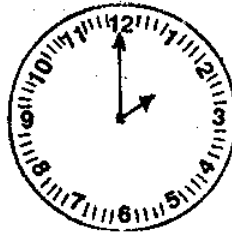
6. ข้อใดหน้าปัดนาฬิกาแสดงเวลา สี่นาฬิกา ได้ถูกต้อง



ก



ข



ค

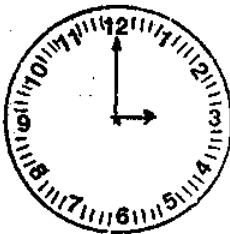


ง

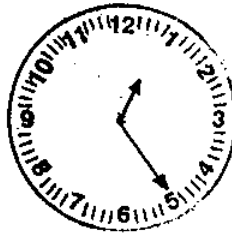
7. ข้อใดหน้าปัดนาฬิกาแสดงเวลา ห้านาฬิกา ได้ถูกต้อง



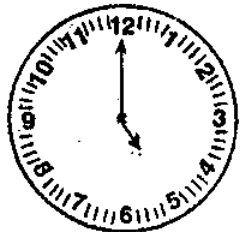
ก



ข



ค



ง

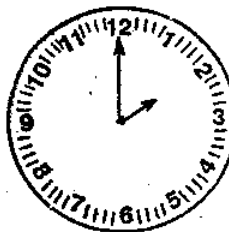
8. ข้อใดหน้าปัดนาฬิกาแสดงเวลา สิบนาฬิกา ได้ถูกต้อง



ก



ข

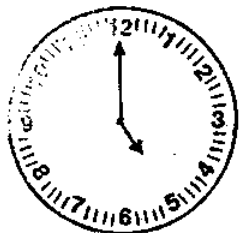


ค

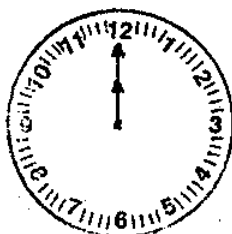


ง

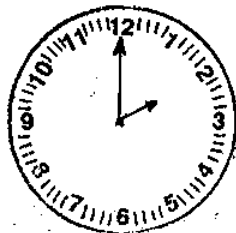
9. ข้อใดหน้าปัดนาฬิกาแสดงเวลา สองนาฬิกา ได้ถูกต้อง



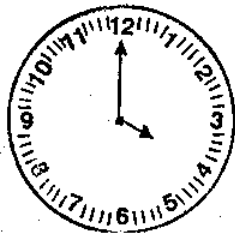
ก



ข

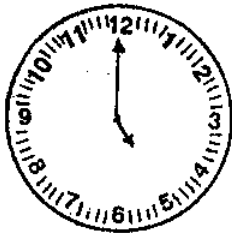


ค




ง

10. ข้อใดหน้าปัดนาฬิกาแสดงว่า สิบเอ็ดนาฬิกา ได้ถูกต้อง



ก



ข



ค



ง

เฉลยแบบทดสอบหลังเรียน

วิชาคณิตศาสตร์ ชั้นประถมศึกษาปีที่ 3

ชุดที่ 3 บทที่ 6 เรื่องเวลา

ศูนย์ที่ 3 เรื่องการเขียนและการอ่านเวลาในช่วงกลางคืนและกลางวัน
เป็นชั่วโมงตรงโดยใช้จุด

ตอนที่ 1

1. ข
2. ค
3. ง
4. ก
5. ค

ตอนที่ 2

6. ข
7. ง
8. ก
9. ค
10. ง

บัตรคำสั่ง

วิชาคณิตศาสตร์ ชั้นประถมศึกษาปีที่ 3

ชุดที่ 3 บทที่ 6 เรื่องเวลา

ศูนย์ที่ 4 เรื่องการเขียนและการอ่านเวลาในช่วงกลางคืนและกลางวัน
เป็นชั่วโมงและนาทีโดยใช้จุด

โปรดอ่านบัตรคำสั่งแล้วปฏิบัติตามลำดับขั้นด้วยความตั้งใจ

1. หัวหน้าประจำศูนย์การเขียนแฉกกระดาษคำตอบแบบทดสอบก่อนเรียน
2. หัวหน้าประจำศูนย์การเขียนแฉกแบบทดสอบก่อนเรียน
3. ทำแบบทดสอบก่อนเรียนในกระดาษคำตอบแบบทดสอบก่อนเรียน
4. หัวหน้าประจำศูนย์การเขียนเก็บกระดาษคำตอบแบบทดสอบ
ก่อนเรียนส่งครู
5. หัวหน้าประจำศูนย์การเขียนแฉกบัตรเนื้อหา
6. อ่านบัตรเนื้อหา
7. หัวหน้าประจำศูนย์การเขียนแฉกบัตรกิจกรรม
8. อ่านบัตรกิจกรรมและปฏิบัติกิจกรรม
9. หัวหน้าประจำศูนย์การเขียนแฉกกระดาษคำตอบ
10. หัวหน้าประจำศูนย์การเขียนแฉกบัตรคำถาม
11. อ่านบัตรคำถาม ตอบคำถามในกระดาษคำตอบ
12. หัวหน้าประจำศูนย์การเขียนเก็บกระดาษคำตอบส่งครู
13. หัวหน้าประจำศูนย์การเขียนแฉกกระดาษคำตอบแบบทดสอบ
หลังเรียน

14. หัวหน้าประจำศูนย์การเรียนรู้แจกแบบทดสอบหลังเรียน
 15. ทำแบบทดสอบหลังเรียนในกระดาษคำตอบแบบทดสอบหลังเรียน
 16. หัวหน้าประจำศูนย์การเรียนรู้เก็บกระดาษคำตอบแบบทดสอบหลังเรียน
- ส่งครู

กระดาษคำตอบแบบทดสอบก่อนเรียน
 วิชาคณิตศาสตร์ ชั้นประถมศึกษาปีที่ 3
 ชุดที่ 3 บทที่ 6 เรื่องเวลา

ศูนย์ที่ 4 เรื่องการเขียนและการอ่านเวลาในช่วงกลางคืนและกลางวัน
 เป็นชั่วโมงและนาทีโดยใช้จุด

โรงเรียน.....

ชื่อ - สกุล..... เลขที่.....

ตอนที่ 1

ตอนที่ 2

	ก	ข	ค	ง
1.				
2.				
3.				
4.				
5.				
6.				
7.				
8.				
9.				
10.				

แบบทดสอบก่อนเรียน

วิชาคณิตศาสตร์ ชั้นประถมศึกษาปีที่ 3

ชุดที่ 3 บทที่ 6 เรื่องเวลา

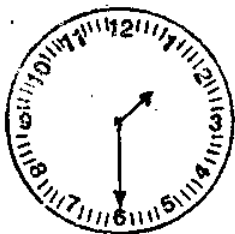
ศูนย์ที่ 4 เรื่องการเขียนและการอ่านเวลาในช่วงกลางวันและ

กลางวันเป็นชั่วโมงและนาทีโดยใช้จุด

ให้นักเรียนกาเครื่องหมาย x กับข้อที่ถูกที่สุดในกระดาษ

คำตอบ

1.

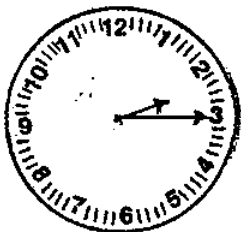


เขียนเวลาโดยใช้จุดได้ตามข้อใด

ก. 1.30 น. ข. 1.06 น.

ค. 6.05 น. ง. 6.50 น.

2.



เขียนเวลาโดยใช้จุดได้ตามข้อใด

ก. 2.03 น. ข. 2.15 น.

ค. 3.20 น. ง. 3.02 น.

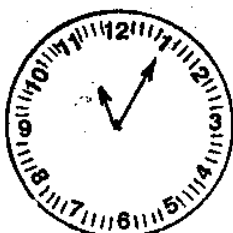
3.



เขียนเวลาโดยใช้จุดได้ตามข้อใด

- ก. 5.35 น. ข. 5.8 น.
 ค. 7.05 น. ง. 7.25 น.

4.



เขียนเวลาโดยใช้จุดได้ตามข้อใด

- ก. 11.0 น. ข. 1.11 น.
 ค. 11.05 น. ง. 11.01 น.

5.



เขียนเวลาโดยใช้จุดได้ตามข้อใด

- ก. 10.40 น. ข. 10.8 น.
 ค. 8.10 น. ง. 8.50 น.

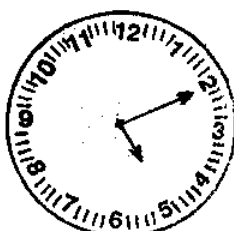
ตอนที่ 2 ให้นักเรียนกาเครื่องหมาย x กับข้อที่ถูกที่สุดใน

กระดาษคำตอบ

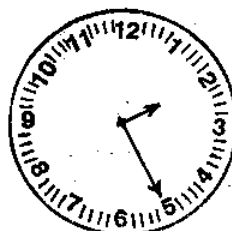
6. ข้อใดแสดงเวลา สองนาฬิกาห้านาที ได้ถูกต้อง



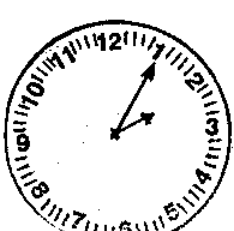
ก



ข

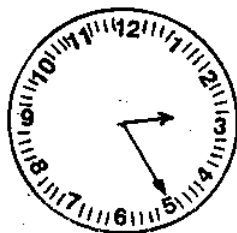


ค



ง

7. ข้อใดแสดงเวลา สี่นาฬิกาสิบนาที ได้ถูกต้อง



ก



ข

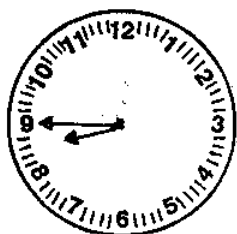


ค



ง

8. ข้อใดแสดงเวลา แปดนาฬิกาสี่สิบห้านาที ได้ถูกต้อง



ก



ข



ค



ง

9. ข้อใดแสดงเวลา สิบนาฬิกาสามสิบห้านาที ได้ถูกต้อง



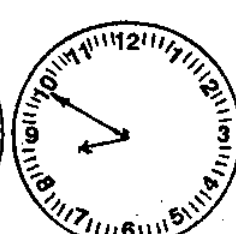
ก



ข



ค



ง

10. ข้อใดแสดงเวลา สิบเอ็ดนาฬิกา สิบนาที ได้ถูกต้อง



ก



ข



ค



ง

เฉลยแบบทดสอบก่อนเรียน

วิชาคณิตศาสตร์ ชั้นประถมศึกษาปีที่ 3

ชุดที่ 3 บทที่ 6 เรื่องเวลา

ศูนย์ที่ 4 เรื่องการเขียนและการอ่านเวลาในช่วงกลางวันและ
กลางวันเป็นชั่วโมงและนาทีโดยใช้จุด

ตอนที่ 1 1. ก

2. ข

3. ง

4. ค

5. ก

ตอนที่ 2 6. ง

7. ข

8. ก

9. ค

10. ข

บัตรเนื้อหา

วิชาคณิตศาสตร์ ชั้นประถมศึกษาปีที่ 3

ชุดที่ 3 บทที่ 6 เรื่องเวลา

ศูนย์ที่ 4 เรื่องการเขียนและการอ่านเวลาในช่วงกลางวันและ
กลางคืนเป็นชั่วโมงและนาทีโดยใช้จุด

.....

ตัวเลขหน้าจุดบอกเวลาเป็นนาฬิกา ส่วนตัวเลขหลังจุดบอก
เวลาเป็นนาที

ตัวเลขหลังจุดต้องใช้ตัวเลข 2 ตัวเสมอ ถ้าจำนวนที่มีตัวเลข
ตัวเดียว คือ ไม่ถึง 10 นาที ให้เขียนโดยใช้ 0 นำหน้า เช่น



การบอกเวลาโดยใช้จุดในตอนกลางวัน

1 นาฬิกา 5 นาที

เขียนโดยใช้จุดได้ 1.05 น.

อ่านว่า หนึ่งนาฬิกาห้านาที



5 นาฬิกา 30 นาที

เขียนโดยใช้จุดได้ 5.30 น.

อ่านว่า ห้านาฬิกาสามสิบนาที



9 นาฬิกา 5 นาที

เขียนเวลาโดยใช้จุดได้ 9.05 น.

อ่านว่า เก้านาฬิกาห้านาที



10 นาฬิกา 15 นาที

เขียนโดยใช้จุดได้ 10.15 น.

อ่านว่า สิบนาฬิกาสิบห้านาที

บัตรกิจกรรม

วิชาคณิตศาสตร์ ชั้นประถมศึกษาปีที่ 3

ชุดที่ 3 บทที่ 6 เรื่องเวลา

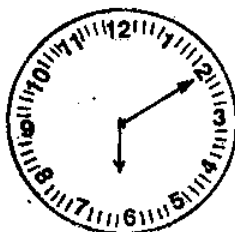
ศูนย์ที่ 4 เรื่องการเขียนและการอ่านเวลาในช่วงกลางคืนและกลางวัน
เป็นชั่วโมงและนาทีโดยใช้จุด

1. ให้นักเรียนระบายสีแดง บนหน้าปัดนาฬิกาที่บอกเวลา 11.50 น. กับเวลา 10.30 น.
2. ให้นักเรียนระบายสีเขียว บนหน้าปัดนาฬิกาที่บอกเวลา 5.05 น. กับเวลา 10.25 น.
3. ให้ระบายสีฟ้า บนหน้าปัดนาฬิกาที่บอกเวลา 8.40 น. กับเวลา 4.55 น.
4. ให้ระบายสีชมพู บนหน้าปัดนาฬิกาที่บอกเวลา 6.10 น. กับ 3.20 น.

บัตรกิจกรรม
ชุดที่ 3 ศูนย์ที่ 4

โรงเรียน.....

ชื่อ - สกุล



กระดาษคำตอบ

วิชาคณิตศาสตร์ ชั้นประถมศึกษาปีที่ 3

ชุดที่ 3 บทที่ 6 เรื่องเวลา

ศูนย์ที่ 4 เรื่องการเขียนและการอ่านเวลาในช่วงกลางวันและ
กลางวันเป็นชั่วโมงและนาทีโดยใช้จุด

โรงเรียน.....

ชื่อ - สกุล..... เลขที่.....

	ก	ข	ค	ง
1.				
2.				
3.				
4.				
5.				
6.				
7.				
8.				
9.				
10.				

บัตรคำถาม

วิชาคณิตศาสตร์ ชั้นประถมศึกษาปีที่ 3

ชุดที่ 3 บทที่ 6 เรื่องเวลา

ศูนย์ที่ 4 เรื่องการเขียนและการอ่านเวลาในช่วงกลางคืนและ
กลางวันเป็นชั่วโมงและนาทีโดยใช้จุด

.....

คำสั่ง ให้นักเรียนกาเครื่องหมาย x หน้าข้อที่เขียนเวลาโดยใช้
จุดได้ถูกต้อง

1. 2 นาฬิกา 5 นาที

ก. 2.05 น.

ข. 2.50 น.

ค. 0.25 น.

ง. 00.25 น.

2. 5 นาฬิกา 30 นาที

ก. 5.3 น.

ข. 5.30 น.

ค. 05.30 น.

ง. 05.3 น.

3. 9 นาฬิกา 15 นาที

ก. 09.15 น.

ข. 09.015 น.

ค. 9.15 น.

ง. 9.015 น.

4. 1 นาฬิกา 10 นาที

ก. 1.01 น.

ข. 1.10 น.

ค. 1.010 น.

ง. 1.100 น.

5. 10 นาฬิกา 50 นาที

ก. 10.500 น. ข. 10.05 น.

ค. 10.050 น. ง. 10.50 น.

6. 3.05 น. อ่านว่าอย่างไร

ก. สามนาฬิกาศูนย์ห้านาที

ข. สามนาฬิกาห้านาที

ค. สามนาฬิกาศูนย์นาที

ง. สามนาฬิกาห้าศูนย์นาที

7. 4.10 น. อ่านว่าอย่างไร

ก. สี่นาฬิกาสิบนาที

ข. สี่นาทีสิบนาฬิกา

ค. สี่นาฬิกาหนึ่งนาที

ง. สี่นาฬิกาหนึ่งศูนย์นาที

8. 11.35 น. อ่านว่าอย่างไร

ก. สิบเอ็ดนาฬิกาสามห้านาที

ข. สิบเอ็ดนาฬิกาสามสิบห้านาที

ค. สิบหนึ่งนาฬิกาสามสิบห้านาที

ง. สิบหนึ่งนาฬิกาสามสิบห้านาที

9. 2.00 น. อ่านว่าอย่างไร

ก. สองนาฬิกาจุดศูนย์

ข. สองจุดศูนย์ศูนย์

ค. สองนาฬิกา

ง. สองนาฬิกาศูนย์นาที

10. 9.45 น. อ่านว่าอย่างไร
- ก. แก้วจุดสี่ห้าหน้าพิกา
 - ข. แก้วจุดสี่สิบห้าหน้าพิกา
 - ค. แก้วหน้าพิกาสี่ห้าหน้าทึ
 - ง. แก้วหน้าพิกาสี่สิบห้าหน้าทึ

บัตรเฉลย

วิชาคณิตศาสตร์ ชั้นประถมศึกษาปีที่ 3

ชุดที่ 3 บทที่ 6 เรื่องเวลา

ศูนย์ที่ 4 เรื่องการเขียนและการอ่านเวลาในช่วงกลางวันและ
กลางคืนเป็นชั่วโมงและนาทีโดยใช้จุด

-
1. ก
 2. ข
 3. ค
 4. ข
 5. ง
 6. ข
 7. ก
 8. ข
 9. ค
 10. ง

กระดาษคำตอบแบบทดสอบหลังเรียน
 วิชาคณิตศาสตร์ ชั้นประถมศึกษาปีที่ 3
 ชุดที่ 3 บทที่ 6 เรื่องเวลา

ศูนย์ที่ 4 เรื่องการเขียนและการอ่านเวลาในช่วงกลางคืนและ
 กลางวันเป็นชั่วโมงและนาทีโดยใช้จุด

.....

โรงเรียน.....
 ชื่อ - สกุล.....เลขที่.....

	ก	ข	ค	ง
1				
2.				
3.				
4.				
5.				
6				
7.				
8.				
9.				
10.				

แบบทดสอบหลังเรียน

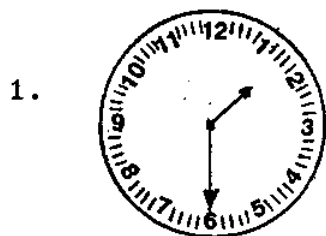
วิทยาศาสตร์ ชั้นประถมศึกษาปีที่ 3

ชุดที่ 3 บทที่ 6 เรื่องเวลา

ศูนย์ที่ 4 เรื่องการเขียนและการอ่านเวลาในช่วงกลางวันและ
กลางวันเป็นชั่วโมงและนาทีโดยใช้จุด


.....

ให้นักเรียนกาเครื่องหมาย x กับข้อที่ถูกต้องที่สุดในกระดาษคำตอบ



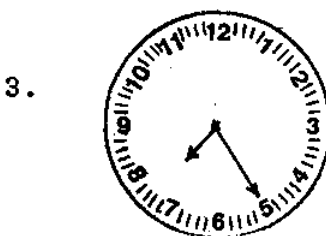
เขียนเวลาโดยใช้จุดได้ตามข้อใด

- ก. 1.30 น. ข. 1.06 น.
ค. 6.05 น. ง. 6.50 น.




เขียนเวลาโดยใช้จุดได้ตามข้อใด

- ก. 2.03 น. ข. 2.15 น.
ค. 3.20 น. ง. 3.02 น.



เขียนเวลาโดยใช้จุดได้ตามข้อใด

- ก. 5.35 น. ข. 5.8 น.
ค. 7.05 น. ง. 7.25 น.



เขียนเวลาโดยใช้จุดได้ตามข้อใด

- ก. 11.0 น. ข. 1.11 น.
ค. 11.05 น. ง. 11.01 น.

5.



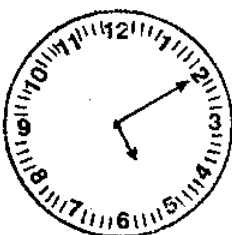
เขียนเวลาโดยใช้จุดได้ตามข้อใด

- ก. 10.40 น. ข. 10.8 น.
 ค. 8.10 น. ง. 8.50 น.

6. ข้อใดแสดงเวลา สองนาฬิกาห้านาที ได้ถูกต้อง



ก



ข



ค

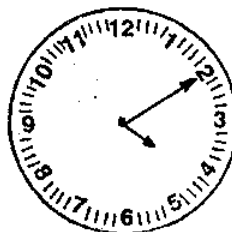


ง

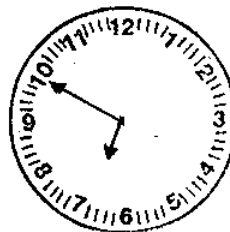
7. ข้อใดแสดงเวลา สัณนาฬิกาสิบนาที ได้ถูกต้อง



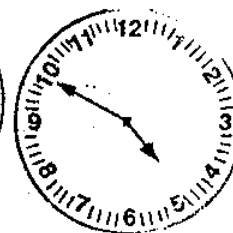
ก



ข



ค

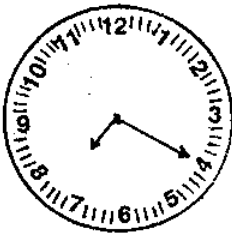


ง

8. ข้อใดแสดงเวลา แปดนาฬิกาสิบห้านาที ได้ถูกต้อง



ก



ข



ค



ง

9. ข้อใดแสดงเวลา สิบนาฬิกาสามสิบห้านาที ได้ถูกต้อง



ก



ข



ค



ง

10. ข้อใดแสดงเวลา สิบเอ็ดนาฬิกาสี่สิบนาที ได้ถูกต้อง



ก



ข



ค



ง

เฉลยแบบทดสอบหลังเรียน

วิชาคณิตศาสตร์ ชั้นประถมศึกษาปีที่ 3

ชุดที่ 3 บทที่ 6 เรื่องเวลา

ศูนย์ที่ 4 เรื่องการเขียนและการอ่านเวลาในช่วงกลางวันและ
กลางวันเป็นชั่วโมงและนาทีโดยใช้จุด

ตอนที่ 1

1. ก
2. ข
3. ง
4. ค
5. ก

ตอนที่ 2

6. ง
7. ข
8. ก
9. ค
10. ข

บัตรกิจกรรม

ศูนย์สำรวจ

วิชาคณิตศาสตร์ ชั้นประถมศึกษาปีที่ 3

ชุดที่ 3 บทที่ 6 เรื่องเวลา

คำสั่ง

1. นักเรียนหยิบบัตรแสดงเวลาโดยใช้จุดคนละ 2 บัตร
2. นำบัตรที่หยิบได้วางบนแป้น ซึ่งบอกเวลาเป็นชั่วโมงตรง ชั่วโมงและนาทีให้ตรงกัน
3. หยุดกิจกรรมทันทีเมื่อกลุ่มอื่นปฏิบัติกิจกรรมเสร็จและเตรียมเปลี่ยนศูนย์

บัตรแสดงเวลาโดยใช้จุด

15 นาฬิกา	8 นาฬิกา	22 นาฬิกา	7 นาฬิกา 15 นาที
8 นาฬิกา 30 นาฬิกา	4 นาฬิกา	1 นาฬิกา 55 นาฬิกา	3 นาฬิกา 25 นาฬิกา
12 นาฬิกา 20 นาฬิกา	9 นาฬิกา 5 นาฬิกา	18 นาฬิกา 40 นาฬิกา	24 นาฬิกา

บัตรแสดงเวลาโดยใช้จุด

15.00 น.	8.00 น.	4.00 น.	24.00 น.
8.30 น.	12.20 น.	9.05 น.	22.00 น.
1.55 น.	18.40 น.	3.25 น.	15.15 น.

แบบทดสอบวัดผลสัมฤทธิ์ทางการเรียน
 วิชาคณิตศาสตร์ ชั้นประถมศึกษาปีที่ 3
 บทที่ 6 เรื่องเวลา

คำชี้แจง

1. ข้อสอบมี 20 ข้อ ให้เวลาในการทำ 1 ชั่วโมง 20 นาที
2. ก่อนทำแบบทดสอบ ให้นักเรียนเขียน ชื่อโรงเรียน
ชื่อ - สกุล เลขที่ ลงในกระดาษคำตอบให้เรียบร้อย
3. ให้นักเรียนทำเครื่องหมายกากบาท (X) ลงใน
กระดาษคำตอบให้ตรงกับ ก ข ค ง ที่ถูกต้องที่สุดเพียงคำตอบเดียว
4. ห้ามนักเรียนเขียนข้อความใด ๆ ลงในแบบทดสอบ

ตัวอย่าง

ข้อ 0. จากภาพหน้าปัดนาฬิกาข้อใดบอกเวลาในช่วง
กลางวันได้ถูกต้อง



- | | |
|-------------|-------------|
| ก. 24.00 น. | ข. 23.00 น. |
| ค. 11.00 น. | ง. 1.00 น. |

กระดาษคำตอบ

ก	ข	ค	ง
		X	

ข้อ ๐.

5. หากนักเรียนต้องการเลือกคำตอบใหม่ ให้ขีดเส้นทับเครื่องหมายคำตอบเดิมทิ้งแล้วเลือกกาเครื่องหมายให้ตรงกับคำตอบใหม่ลงในกระดาษคำตอบดังตัวอย่าง นักเรียนต้องการเปลี่ยนคำตอบจากข้อ ค เป็น ก ดังนี้

กระดาษคำตอบ

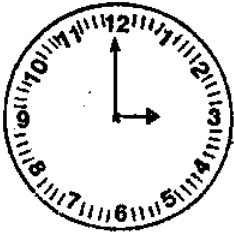
ก	ข	ค	ง
X		X	

ข้อ ๐.

6. เมื่อนักเรียนทำข้อสอบเสร็จแล้ว ทบทวนให้ถี่อีกครั้งว่าทำ
 ข้อสอบครบทุกข้อแล้วหรือยัง แล้วนำกระดาษคำตอบพร้อมข้อสอบส่งครู

แบบทดสอบวัดผลสัมฤทธิ์ทางการเรียน
 วิชาคณิตศาสตร์ ชั้นประถมศึกษาปีที่ 3
 บทที่ 6 เรื่องเวลา

1. จากภาพหน้าปัดนาฬิกาข้อใดบอกเวลาในช่วงกลางคืนได้ถูกต้อง ?



- ก. 3 นาฬิกา ข. 12 นาฬิกา
 ค. 15 นาฬิกา ง. 24 นาฬิกา

2. จากภาพหน้าปัดนาฬิกาข้อใดบอกเวลาในช่วงกลางคืนได้ถูกต้อง ?



- ก. ตีหนึ่ง ข. หนึ่งทุ่ม
 ค. บ่ายโมง ง. เก้าโมง

3. จากภาพหน้าปัดนาฬิกาข้อใดบอกเวลาในช่วงกลางคืนได้ถูกต้อง ?



- ก. เก้าโมง ข. สี่โมง
 ค. สี่ทุ่ม ง. ตี

4. จากหน้าปัดนาฬิกาข้อใดบอกเวลาในช่วงกลางวันได้ถูกต้อง ?



- ก. 10 นาฬิกา ข. 12 นาฬิกา
ค. 22 นาฬิกา ง. 24 นาฬิกา

5. จากภาพหน้าปัดนาฬิกาข้อใดบอกเวลาในช่วงกลางวันได้ถูกต้อง



- ก. เกษียงวัน ข. สิบเอ็ดโมง
ค. ห้าโมง ง. ห้าทุ่ม

6. จากภาพหน้าปัดนาฬิกาข้อใดบอกเวลาในช่วงกลางวันได้ถูกต้อง ?



- ก. 1 นาฬิกา 30 นาที
ข. 1 นาฬิกา 6 นาที
ค. 6 นาฬิกา 5 นาที
ง. 6 นาฬิกา 1 นาที

7. จากภาพหน้าปัดนาฬิกาข้อใดบอกเวลาในช่วงกลางวันได้ถูกต้อง ?



- ก. ตีหกสี่สิบห้านาที
ข. สามทุ่มสี่สิบห้านาที
ค. หกโมงสี่สิบห้านาที
ง. สามทุ่มสี่สิบห้านาที

8. จากภาพหน้าปัดนาฬิกาข้อใดบอกเวลาในช่วงกลางคืนได้ถูกต้อง ?



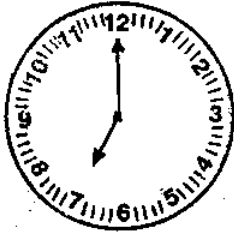
- ก. 4 นาฬิกา 7 นาที
ข. 7 นาฬิกา 4 นาที
ค. 4 นาฬิกา 7 นาที
ง. 4 นาฬิกา 35 นาที

9. จากภาพหน้าปัดนาฬิกาข้อใดบอกเวลาในช่วงกลางคืนได้ถูกต้อง ?



- ก. 2 นาฬิกา 4 นาที
ข. 4 นาฬิกา 2 นาที
ค. 2 นาฬิกา 20 นาที
ง. 4 นาฬิกา 10 นาที

10. จากภาพหน้าปัดนาฬิกาข้อใดบอกเวลาในช่วงกลางคืนได้ถูกต้อง ?



- ก. 12 นาฬิกา
- ข. 17 นาฬิกา
- ค. 19 นาฬิกา
- ง. 24 นาฬิกา

11. จากภาพหน้าปัดนาฬิกาข้อใดบอกเวลาในช่วงกลางวันได้ถูกต้อง ?



- ก. 14 นาฬิกา 4 นาที
- ข. 16 นาฬิกา 2 นาที
- ค. 16 นาฬิกา 10 นาที
- ง. 14 นาฬิกา 20 นาที

12. จากภาพหน้าปัดนาฬิกาข้อใดบอกเวลาในช่วงกลางคืนได้ถูกต้อง ?




- ก. 6 นาฬิกา, 30 นาที
- ข. 7 นาฬิกา 30 นาที
- ค. 18 นาฬิกา 35 นาที
- ง. 19 นาฬิกา 30 นาที

13. จากภาพหน้าปัดนาฬิกาข้อใดบอกเวลาในช่วงกลางวันได้ถูกต้อง ?



- ก. 23 นาฬิกา 9 นาที
- ข. 20 นาฬิกา 11 นาที
- ค. 23 นาฬิกา 45 นาที
- ง. 20 นาฬิกา 55 นาที

14. จากภาพหน้าปัดนาฬิกาข้อใดเขียนเวลาได้ถูกต้อง ?



- ก. 15.00 น.
- ข. 15.03 น.
- ค. 12.00 น.
- ง. 12.03 น.

15. จากภาพหน้าปัดนาฬิกาข้อใดเขียนเวลาได้ถูกต้อง ?




- ก. 12.00 น.
- ข. 12.06 น.
- ค. 18.00 น.
- ง. 18.12 น.

16. จากภาพหน้าปัดนาฬิกาข้อใดเขียนเวลาได้ถูกต้อง ?



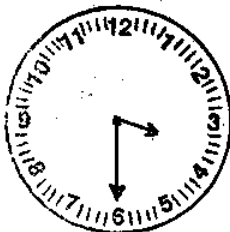
- ก. 8.00 น.
- ข. 10.12 น.
- ค. 12.00 น.
- ง. 12.08 น.

17. จากภาพหน้าปัดนาฬิกาข้อใดเขียนเวลาได้ถูกต้อง ?



- ก. 12.00 น.
- ข. 12.10 น.
- ค. 10.00 น.
- ง. 10.12 น.

18. จากภาพหน้าปัดนาฬิกาข้อใดเขียนเวลาได้ถูกต้อง ?



- ก. 3.06 น.
- ข. 3.00 น.
- ค. 15.06 น.
- ง. 15.30 น.

19. จากภาพหน้าปัดนาฬิกาข้อใดเขียนเวลาได้ถูกต้อง ?



- ก. 5.55 น.
- ข. 5.11 น.
- ค. 17.55 น.
- ง. 17.11 น.

20. เวลา 15.40 น. อ่านว่าอย่างไร

- ก. สิบห้านาฬิกาสี่สิบนาที
- ข. หนึ่งห้านาฬิกาสี่สิบนาที
- ค. สิบห้านาฬิกาจุดสี่ศูนย์นาที
- ง. หนึ่งห้านาฬิกาจุดสี่ศูนย์นาที

กระดาษคำตอบแบบทดสอบวัดผลสัมฤทธิ์ทางการเรียน

วิชาคณิตศาสตร์ ชั้นประถมศึกษาปีที่ 3

บทที่ 6 เรื่องเวลา

โรงเรียน.....

ชื่อ - สกุล..... เลขที่.....

	ก	ข	ค	ง
1.				
2.				
3.				
4.				
5.				
6.				
7.				
8.				
9.				
10.				
11.				
12.				
13.				
14.				
15.				
16.				
17.				
18.				
19.				
20.				

เฉลยแบบทดสอบวัดผลสัมฤทธิ์ทางการเรียน
วิชาคณิตศาสตร์ ชั้นประถมศึกษาปีที่ 3
บทที่ 6 เรื่องเวลา

1. ก
2. ก
3. ง
4. ก
5. ข
6. ค
7. ค
8. ง
9. ค
10. ค
11. ค
12. ง
13. ง
14. ก
15. ค
16. ก
17. ค
18. ง
19. ก
20. ก